

**Конкурсные задания
дистанционной муниципальной олимпиады
«Математические ступеньки»
для дошкольников
2022-2023 учебный год**

Заполните анкету (электронно или вручную печатными буквами) и приступайте к выполнению заданий. Прочтите ребенку вопрос, предложите подумать и самостоятельно найти правильный ответ. Запись ответа осуществляется ребенком. Желаем Вам успехов!

Фамилия и имя участника	
Возраст участника	
Название образовательной организации (полностью)	
Фамилия, имя, отчество педагога-куратора	
Телефон Email	
Фамилия, имя, отчество родителя ребенка, не посещающего дошкольное образовательное учреждение	
Телефон Email	

На обработку персональных данных моих и моего ребенка в порядке, установленном Федеральным законом от 27 июля 2006 года № 152-ФЗ «О персональных данных», согласен(а).

Подпись _____ дата _____

Бланк ответов на задания

ФИ участника _____

№ задания	Вариант ответа
1	
2	
3	
4	
5	
6	
7	
8	
9	
10	

ЗАДАНИЕ №1. Определите, что было сначала, а что потом? Расставьте цифры так, чтобы картинки встали по порядку:


А

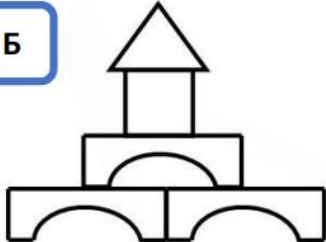
1		2		3	
---	---	---	---	---	---

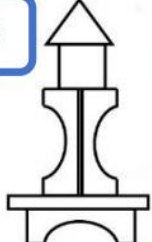
Б

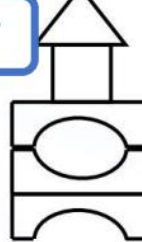
1		2		3		4	
---	---	---	---	---	--	---	---

ЗАДАНИЕ №2. Закрасьте домики, которые состоят из одинакового набора фигур. Какой домик отличается от остальных?

А 


Б 

В 

Г 

ЗАДАНИЕ №3. Ежик собирал неделю грибы. Каждый день, начиная с понедельника, он находил по одному грибу. Сколько грибов он собрал за неделю?

А 5 **Б** 7 **В** 10



ЗАДАНИЕ №4. На рисунке изображен паровозик с вагончиками. Рассмотрите рисунок и укажите НЕВЕРНОЕ утверждение:



А Зеленый вагончик стоит справа от желтого

Б Желтый вагончик едет предпоследним

В Первый вагончик – голубой

Г У паровозика всего 4 вагончика

ЗАДАНИЕ №5. Продолжите закономерность.



ЗАДАНИЕ №6. Домик барсука находится между домами лисички и енота. Кто живет ДАЛЬШЕ от лисички: барсук или енот?



ЗАДАНИЕ №7. Щенки Альф, Бим и Каштан играли с мячом. Сначала Альф играл с Бимом, а потом Альф играл с Каштаном.

Как зовут этого щенка?

Альф и Бим	Альф и Каштан

ЗАДАНИЕ №8. Расставьте самолетики в таблице так, чтобы их цвета в каждом ряду и каждом столбике были разные. Укажите самолетик, который должен стоять на месте знака «? »:



ЗАДАНИЕ №9. Какие часы показывают 6 часов?



ЗАДАНИЕ №10. Каждому предмету из верхней части картинки подбери подходящий предмет из нижней картинки. Какой предмет остался лишним?

